




# T3 2016-A4

Een *achtje* is een figuur bestaande uit twee gelijke cirkels die tegen elkaar aan zijn getekend, zoals ,  of . In de figuur zie je 66 cirkels die opgestapeld zijn in de vorm van een driehoek.



Hoeveel achtjes kun je in deze stapel vinden?